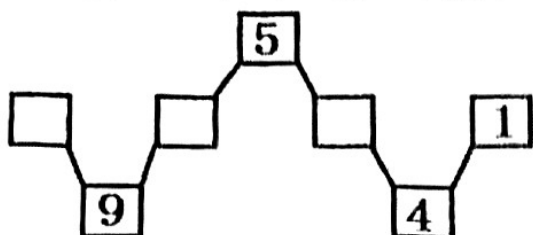


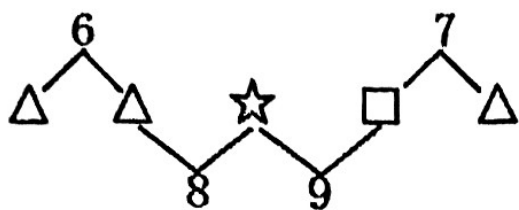
一年級（上）数学每周一练 1

班级 _____ 姓名 _____

1、填出方框中缺少的数。



2、下面图形代表的数分别是多少？



$\triangle = (\quad)$ $\star = (\quad)$ $\square = (\quad)$


3、比一比，填一填。

$\triangle \triangle \triangle \triangle \triangle \triangle \triangle$

$\bigcirc \bigcirc \bigcirc \bigcirc \bigcirc \bigcirc$

() 比 () 多 () 个, () 比 () 少 () 个。

4、画一画，再添 () 块砖，就能铺满。



5、王老师要带9个小朋友去看电影，他应该买（ ）张票。

6、



(1) 一共有（ ）盘梨，从右数起，第4盘有（ ）个梨，有3个梨的是第（ ）盘。

(2) 从左数起，第（ ）盘和第（ ）盘合起来是7个梨，第（ ）盘和第（ ）盘合起来也是7个梨。

(3) 亮亮要拿走两盘，他最多拿走（ ）个梨，最少拿走（ ）个梨。

(4) 妹妹吃了8个梨她最多吃了（ ）盘，最少吃了（ ）盘。

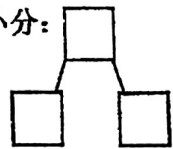
7、从0数到10，8前面的第3个数是（ ），后面2个数是（ ）。7的相邻数是（ ）和（ ）。比9小比5大的数有（ ）个。小于4的数有（ ）。

8、根据要求画一画。

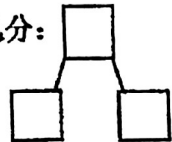
(1) 再画10个：○●○●●○●●●●_____

(2) 画满10个：□○▽□○▽_____

按大小分：



按颜色分：



9、☆ ★ ☆ ☆ ☆ ☆ ☆ ★ ☆ ★