

《小学生数学报》数学学习能力调研卷

落实“双减” 提质增效 (最新修订版)

2023年秋季学期苏教版一年级(上)第一~四单元使用

(本卷总分100分,共4页,建议完成时间90分钟)

班级_____姓名_____等第_____



查答案填问卷请扫描

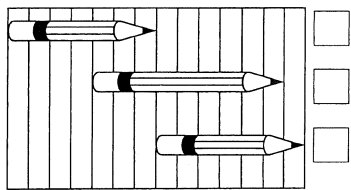


一、选择题 (每题4分,共32分)

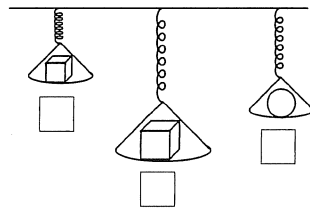
1. 和左边“●”同样多的小动物是哪一组? 在它下面的□中画“√”。



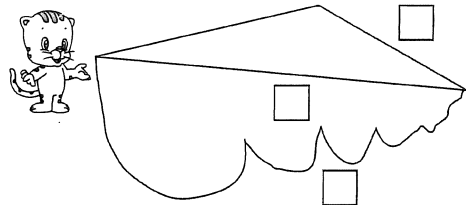
2. 哪支铅笔最长? 最长的画“√”。



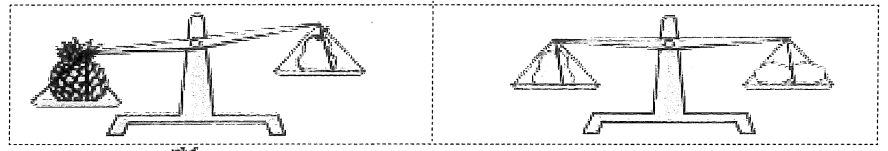
3. 在最重的下面画“√”,最轻的下面画“○”。

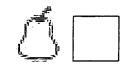


4. 小猫想吃鱼,走哪条路最近? 最近的画“√”,最远的画“○”。




5. 最重的画“√”,最轻的画“○”。



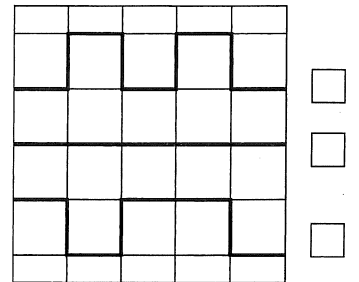




6. 谁最高? 最高的画“√”,最矮的画“○”。



7. 最长的画“√”,最短的画“○”。



8. 每个人一个苹果,哪一盘正好够? 在□里画“√”。





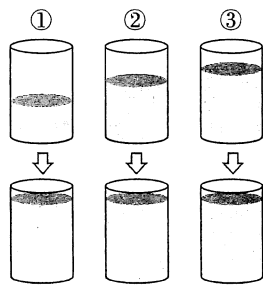


二、填空题 (每空3分,共33分)

1. 画“○”表示左图中物体的数量。



2. 小红向三个杯子里分别放入一块石头,每个杯里的水位都上升。放入()号杯里的石头最大,()号杯里的石头最小。



3. 双休日,小红一家去超市购物。下面是超市楼层分布图。


3楼	儿童玩具
2楼	文具用品
1楼	零食饮料

(1) 小红想要买一个卷笔刀,应该去()楼。

(2) 妈妈想要买一箱牛奶,应该去()楼。

(3) 爸爸想要买一套积木,应该去()楼。

4. 一家人出去散步,如右图,妈妈牵着花花的手,花花的手拉着爸爸的手。



(1) 妈妈的()手牵着花花。

(2) 花花的()边是爸爸,()边是妈妈。

三、操作题 (共35分)

1. (6分) (1) 画△,比○多3个。 (2) 在☆的右边画4个○,在☆的左边画2个●。

○ ○ ○

_____ ☆ ☆ _____

2. 按规律接着画,画满10个。(5分)

△ △ □ △ △ □ _____

3. 圈一圈。(16分)


(1) 把能在水里游的小动物圈出来。



(2) 把蔬菜圈出来。



(3) 在每个方框中圈出与其他三个不同类的物品。

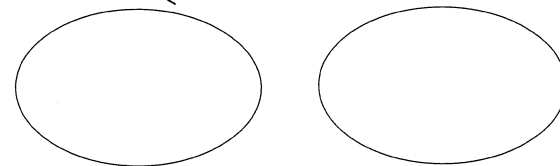



(4) 圈出每个方框中与其他三行规律不同的那一行。

1	2	3	4
3	4	5	6
2	3	4	5
6	5	4	3

6	7	9	10
1	3	5	7
3	5	7	9
2	4	6	8

4. 熊妈妈为她的两个孩子准备了一些新年礼物。照样子分一分、连一连,把这些新年礼物分成两类。(8分)



《小学生数学报》数学学习能力调研卷

落实“双减” 提质增效 (最新修订版)



2023年秋季学期苏教版一年级(上) 第五、六单元使用

(本卷总分100分,共4页,建议完成时间90分钟)

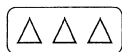
班级_____ 姓名_____ 等第_____

查看答案填问卷请扫描



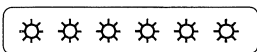
一、填空题 (每空1分,共25分)


1. 数一数,写一写。







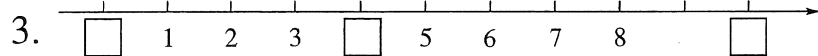




2. 数一数,填一填。



一共有()只小兔。从左数起第()、第()、第()、第()和第()只小兔在骑马。




- (1) 在方框里填上合适的数。
- (2) 3和8这两个数,()更接近5,()更接近10。
- (3) 与7相邻的两个数是()和()。

4. 今天是小红的6岁生日,妈妈给她买了一个蛋糕。如果1岁插1支蜡烛,需要插()支蜡烛。去年小红()岁,明年她()岁。

5. 比一比,填一填。



() > ()



() < ()

二、选择题 (在正确答案后面的□里画“√”)(每题3分,共24分)

1. 下面和5相邻的数是哪个?

4 8 7

2. 从小到大,2个2个地数,6后面的数是几?

6 7 8

3. 小明的姐姐9岁,小明的弟弟5岁,小明的岁数可能是多少?

10岁 7岁 4岁

4. 比0多1的数是哪一个?

1 9 10

5. 两只手套为一副。有4个人,每人一副手套,下面这些手套够不够?

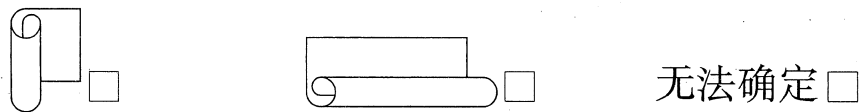




够 不够 无法确定

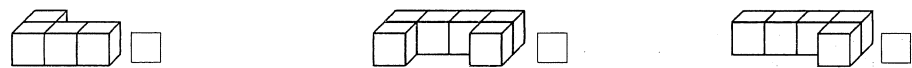
6. 下面的物体中,哪个没有平平的面?



7. 把一张 A4 纸按下面的两种方式卷成圆柱, 哪一种卷法卷出的圆柱更高?



8. 下面哪个图形能与  拼成  ?



三、 操作题 (共 19 分)

1. 按要求画。(8 分)

(1) 在 ○ 的左边画 2 个 △, 右边画 5 个 □。



(2) 在第二行画 △, 使它比 ○ 多 3 个。



2. 先按要求圈一圈, 再填一填。(8 分)


(1) 

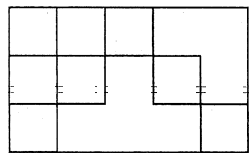
3 个 3 个地圈, 可以圈 () 次, 一共有 () 个菠萝。

(2) 

5 个 5 个地圈, 可以圈 () 次, 一共有 () 个橘子。


3. 先画一画, 再数一数, 还需 () 块

 才能把右面的图形填满。(3 分)



四、 解决问题 (共 32 分)

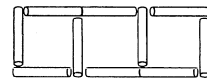
1. 仔细观察下面的图并回答问题。(8 分)



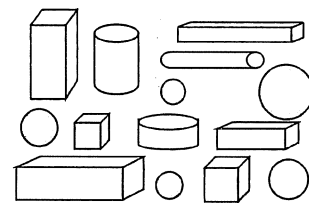
(1) 小猫的右边边有 () 只小动物。

(2) 从右数起, 小猫排在第 7 个, 这队一共有 () 只小动物。小猫的右面有 () 只小动物, 其中有 () 只小动物被挡住了。

2. 照样子接着在右边再摆 2 个正方形, 至少还要 () 根小棒。(4 分)



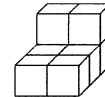
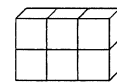
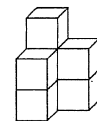
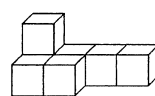
3. 数一数, 长方体、正方体、圆柱和球各有多少个?(12 分)



长方体 () 个 正方体 () 个

圆柱 () 个 球 () 个

4. 下面的图形中, 各有多少个小正方体?(8 分)



() 个 () 个 () 个 () 个



《小学生数学报》数学学习能力调研卷

落实“双减” 提质增效 (最新修订版)



2023年秋学期苏教版一年级(上)第一~六单元使用

(本卷总分100分,共4页,建议完成时间90分钟)

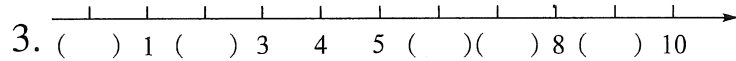
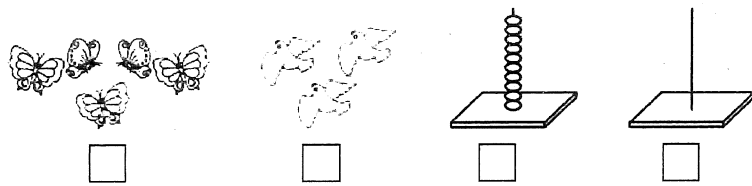
班级_____姓名_____等第_____

查答案填问卷请扫描

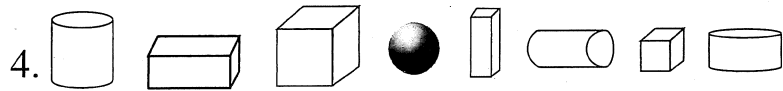


一、填空题 (第6题3分,其余每空1分,共30分)

1. 数一数,在□内填入合适的数。



- 在括号里填上合适的数。
- 和9相邻的两个数是()和()。
- 2和9这两个数中,()离5近一些。
- 比8小的自然数中,最大的是()。




- 一共有()个图形,其中有()个圆柱。
- 的左边有()个图形,右边有()个图形。

(3)从右数起,第()个和第()个是正方体。

5. 在○里填上“>”“<”或“=”。

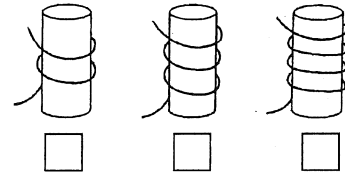

7○6 8○2 8○8 0○10



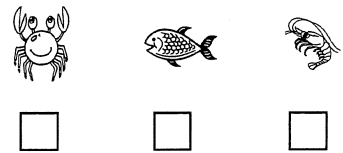



每个孩子吃2个苹果,够吗?
请在正确的答案上面画“√”。(够 不够)

二、选择题 (每题4分,共16分)

- 高的画“√”,矮的画“○”。
- 最长的绳画“√”,最短的画“○”。

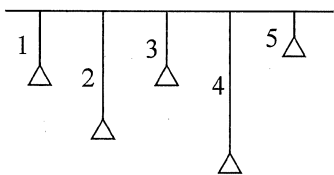


- 重的画“√”,轻的画“○”。
- 最重的画“√”,最轻的画“○”。


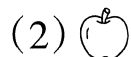


三、操作题 (共26分)

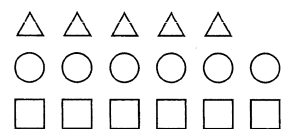
1. 如右图, ()号灯挂得最高, ()号灯线最长。(4分)



2. 圈出与左图不是同一类的物品。(6分)



3. (6分)

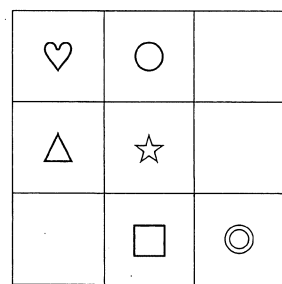


(1) ()的个数最少。

(2) ○再加()个就和□一样多;

□去掉()个就和△一样多。

4. 按要求圈一圈。(10分)



(1) △在☆的(左边, 右边)。

(2) ☆在□的(上边, 下边)。

(3) ◎在□的(左边, 右边)。

(4) △在♡的(上边, 下边)。

(5) ♡的(左边, 右边)是○。


四、解决问题 (共28分)

1. 10个同学排成一列。(4分)

(1) 从前往后数, 小明排在第4个, 小明后面有()个同学。

(2) 从后往前数, 小红排在第5个, 小红后面有()个同学。

2. 小动物们正在进行赛车运动。(6分)



(1) 一共有()辆车, 排在第一的是()号车。

(2) 4号车的前面有()辆车, 后面是()号车。

(3) 5号车排在第(), 排在第3的是()号车。

3. 四个小朋友站成一排, 他们分别叫豆豆、平平、毛毛和乐乐。乐乐站在豆豆的右边, 平平站在豆豆的左边, 平平站在豆豆和毛毛的中间。你知道他们分别是谁吗? 请用线连一连。(9分)



平平 乐乐 毛毛

4. 单人椅只能坐1个小朋友, 双人椅能坐2个小朋友。当这些椅子坐满时, 还有()个小朋友没有座位。给没有座位的小朋友搬椅子, 若用单人椅还要搬()张; 若用双人椅还要搬()张。(9分)

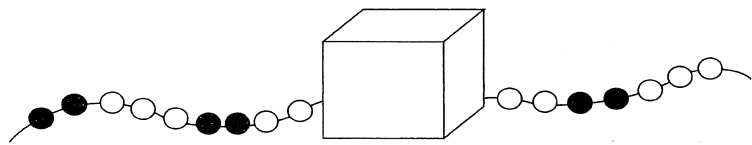


2. 一共有8个图形,从左往右数,▲在第5个;从右往左数,它在第几个?



5□ 4□ 3□

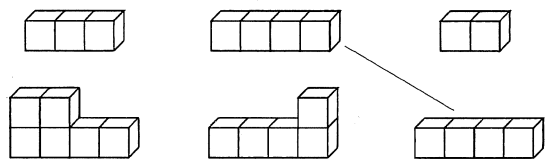
3. 下面的一串珠子是按照规律排列的。想一想,画一画,盒子里最少有几颗珠子?



2□ 3□ 4□

三、 操作题 (每题6分,共18分)

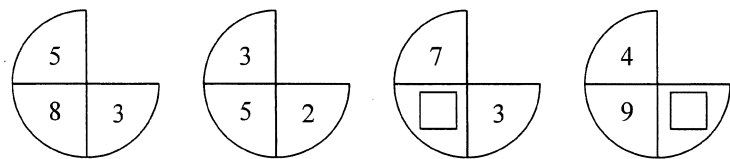
1. 把能拼成 的图形连起来。



2. 照下图这样,把4根短绳连在一起,要打()个结;把6根短绳连在一起,要打()个结。

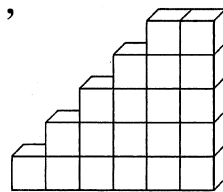


3. 找规律填数。

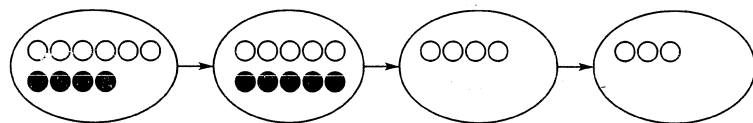


四、 解决问题 (每题8分,共32分)

1. 一共有()层,从下往上看,第一层有()块 , 第五层有()块 ,有3块 的是第()层,第()层和第()层合起来是8块 ,第()层和第()层合起来也是8块 .



2. 找规律,接着画。



3.

- (1) 左起第1盘和第3盘合起来有()颗草莓。
- (2) 左起第2盘和第()盘合起来正好是9颗草莓。
- (3) 一共有()盘草莓,从中任意拿两盘,最少有()颗草莓。

4. 王老师把9块糖奖励给3个小朋友。

(1) 如果每人都不一样,可以怎么分? 在下图中圈一圈。



(2) 如果每人一样多,应该怎么分? 在下图中圈一圈。



《小学生数学报》数学学习能力调研卷

落实“双减” 提质增效 (最新修订版)



2023年秋季学期苏教版一年级(上)第八单元使用

(本卷总分100分,共4页,建议完成时间90分钟)

班级_____姓名_____等第_____

查答案填问卷请扫描



一、计算题(共25分)

1. 直接算出得数。(12分)

$8-6=$ $4-4=$ $8-5=$ $4+5-6=$

$0+9=$ $5+5=$ $10-6=$ $7-7+3=$

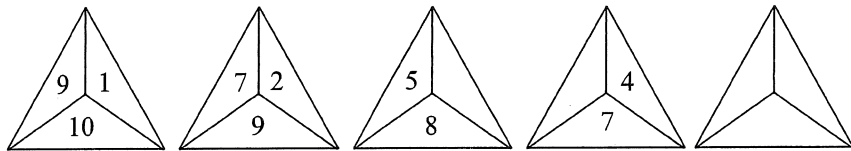
$2+7=$ $7+3=$ $5+4=$ $2+7+1=$

2. 在□中填上合适的数。(8分)

$1 \xrightarrow{+8} \square \xrightarrow{-5} \square \xrightarrow{-4} \square \xrightarrow{+7} \square$


$\square \xrightarrow{+5} \square \xrightarrow{-2} \square \xrightarrow{-3} \square \xrightarrow{+4} 8$

3. 找规律填数。(5分)



二、填空题(第1题8分,其余每空1分,共27分)

1.



$\square + \square = \square$

$\square - \square = \square$

$\square + \square = \square$

$\square - \square = \square$

2. 先想想各个图形表示几,再填一填。

$\square - \star = 2$

$\star + 5 = 10$

$\star = (\quad)$

$\square = (\quad)$

$\star + \star = 8$

$\star + \bullet = 9$

$\star = (\quad)$

$\bullet = (\quad)$

3. 在○里填上“>”“<”或“=”。

$6+3 \bigcirc 8$

$6+3-4 \bigcirc 6$

$4+2 \bigcirc 4+3$

$4 \bigcirc 8-5$

$9-2-3 \bigcirc 4$

$10-6 \bigcirc 10-5$

4. 在括号里填上合适的数。

$(\quad) - 2 = 6$

$(\quad) + 7 = 10$

$9 - 1 = 3 + (\quad)$

$5 + (\quad) = 10$

$10 - 4 = (\quad)$

$(\quad) - 3 + 4 = 6$

5. 小文有10元钱,正好买其中的三个玩具,是哪三个?

请把它们圈一圈。



3元



1元



4元



5元

三、选择题(在正确答案后面的□里画“√”)(每题3

分,共18分)

1. $6 + (\quad) < 10$, (\quad) 里最大可以填几?

4□

3□

2□

2. $4 + (\quad) > 8$, (\quad) 里最小可以填几?

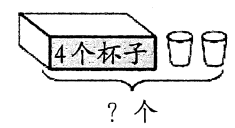
5□

6□

4□



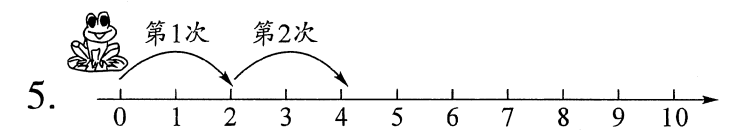
3. 盒子里面有4个杯子,盒子外面有2个杯子,求一共有几个杯子,下面哪个列式是正确的?



- 4+2□ 4-2□ 2+2□

4. 一共有8个小朋友做游戏,其中女生有2个人,求男生有几个人,下面哪个列式是正确的?

- 8+2□ 8-2□ 6+2□



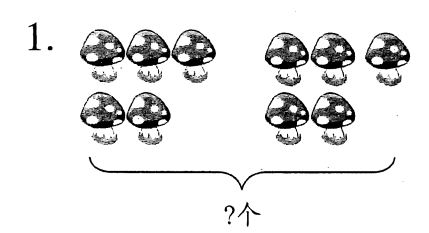
小青蛙从0开始,每次跳2格,第5次会跳到几?

- 10□ 6□ 8□

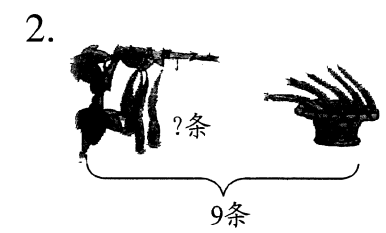
6. 盘子里有10颗葡萄,9颗草莓,8颗荔枝。红红拿走一些草莓后,盘中还剩5颗草莓。红红拿走了几颗草莓?

- 3□ 4□ 5□

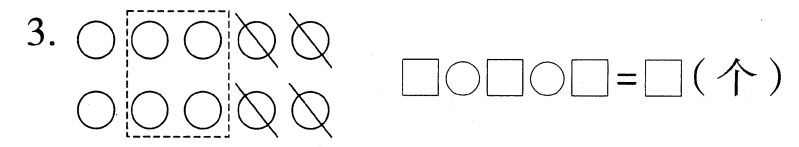
四、解决问题 (第7题6分,其余每题4分,共30分)



□○□=□(个)



□○□=□(条)




4. 河里原来有9只鹅,先游走了2只,又游走了4只。一共游走了多少?
□○□=□(只)

5. 幼儿园里有9个小朋友,每人发一块蛋糕,够不够? 还差几块?



够□ 不够□ □○□=□(块)

6. 汽车上原来有7人,到站后先下后上,现在车上有多少人?



□○□○□=□(人)



(1) 舞蹈组的男生有7人,女生有多少人?

□○□=□(人)

(2) 美术组和围棋组一共有多少人?

□○□=□(人)

(3) 请你再提一个问题,并解答。



《小学生数学报》数学学习能力调研卷

落实“双减” 提质增效 (最新修订版)



2023年秋季学期苏教版一年级(上)第九单元使用

(本卷总分100分,共4页,建议完成时间90分钟)


班级_____姓名_____等第_____

查答案填问卷请扫描

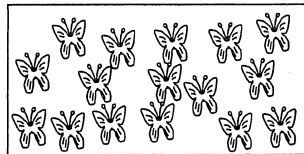


一、填空题(共38分)

1. 先圈出10,再数一数。(4分)

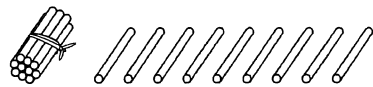


()只

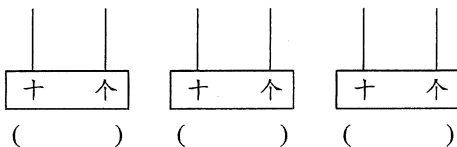


()只

2. 下面的小棒表示()个十和()个一。再添1根小棒后是()个十,表示的数是()。(4分)



3. 用2颗珠在计数器上表示出不同的数,先画一画,再写一写。(6分)



4. 按顺序填数。(8分)

(1) 15、____、13、____、____、10、____。

(2) 6、____、____、12、____、____。

5. 6和13这两个数中,()更接近10。(2分)

6. 一个两位数的十位上是1,个位上的数比十位上的数多5,这个两位数是()。(2分)

7. 下面灯笼中躲着哪个数?猜一猜,并写出来。(6分)

+6=10

8+=18

16-6=+3

16-=6

-7=10


8-=13-10

8. 填表。(6分)

	大象	小猫	刺猬
原来有	15头	12只	()只
走了	10头	()只	7只
还剩	()头	2只	10只

二、选择题(在正确答案后面的□里画“√”)(每题3分,共18分)

1. 一共有多少个小动物?



13个□

14个□

15个□

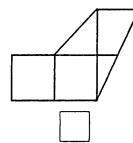
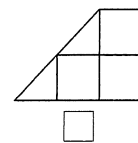
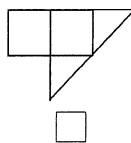
2. 从0开始,五个五个数,15后面一个数是多少?

16□

10□

20□

3. 下面哪块草地最大?在□里打“√”。



4. 明明在计数器上拨了2颗珠子表示一个数。这个数比10大,比20小。这个数可能是多少?

11□ 15□ 20□

5. 三只小动物参加60米赛跑,成绩如下表。第一名是谁?

					
15秒	11秒	14秒	□	□	□

6. 有15个小朋友,给每人发一个面包,买哪两盒比较合适?



三、 计算题 (共16分)


1. 直接写出得数。(10分)


10+4= 2+10= 13-10= 10-5= 13-10+2=

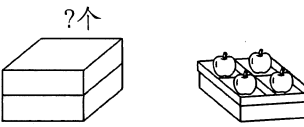
17-7= 20-10= 7+10= 12-10= 6+4+3=

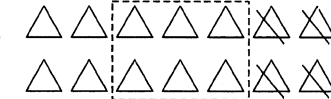
2. 写出得数相等的算式。(6分)

$$2+6= \begin{cases} \boxed{3} + \boxed{5} \\ \square + \square \\ \square + \square \\ \square + \square \end{cases} \quad 17-7= \begin{cases} \boxed{16} - \boxed{6} \\ \square - \square \\ \square - \square \\ \square - \square \end{cases}$$

四、 解决问题 (第5、6题各6分,其余每题4分,共28分)

1.  ?只
□○□○□=□(只)


2.  14个
□○□=□(个)

3. 

□○□○□=□(个)


4. 树上原来有一些鸟,飞走了()只,还剩()只。

原来有多少只鸟?



□○□=□(只)

5. 王老师买了16瓶饮料,给每个小朋友各发1瓶,够吗?(先算一算,再比一比,然后在合适的答案后面画“√”)

 幼儿园大班有8名男生,有10名女生。
□○□=□(名)
□ > □
够□ 不够□

6. 游乐场价目表

				
每人每次 5元	每人每次 4元	每人每次 3元	每人每次 10元	每人每次 8元

(1) 小红打算玩两个项目,每项玩一次,最少要多少元?

□○□=□(元)

(2) 小红打算玩两个项目,每项玩一次,最多要多少元?

□○□=□(元)



《小学生数学报》数学学习能力调研卷

落实“双减” 提质增效 (最新修订版)



2023年秋季学期苏教版一年级(上)第十单元使用

(本卷总分100分,共4页,建议完成时间90分钟)

班级_____姓名_____等第_____

查答案填问卷请扫描



一、填空题(共33分)


1. (6分)

$$9 + 6 = \square$$

$$8 + 5 = \square$$

$$6 + 7 = \square$$

2. 从下面的数字卡中选出合适的4张,写出一道算式。(3分)



$$\square + \square = \square \square$$

3. 在括号里填数。(6分)

$() + 8 = 14 \quad 6 + () = 7 + 5 \quad 7 + () > 15$

$9 + () = 16 \quad 8 + 3 = () + 8 \quad () + 8 < 12$

4. (3分)

	童话书	科幻书	历史书
明明有	5本	4本	()本
红红有	8本	()本	10本
一共有	()本	14本	19本

5. 比比谁先到。(6分)



9+3	-2	+7	-10	+6	=
-----	----	----	-----	----	---



9-3	+8	-10	+9	-3	=
-----	----	-----	----	----	---

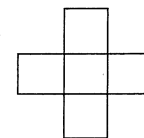
6. 想一想,填一填。(4分)

这个小盒里能放4块蛋糕。

这个盒里大约能放()块蛋糕。

这个大盒里大约能放()块蛋糕。

7. 把2、3、4、5、6这五个数填入右面的图中,使得图中横行、竖行3个数相加的都得11(每个数只能用一次)。(5分)



二、选择题(在正确答案后面的□里画“√”)(每题3

分,共21分)

1. 哪个算式的得数最大?

3+8 □

9+8 □

10+5 □

2. 下面哪个算式的得数比8+5大?

5+8 □

6+8 □

7+6 □

3. $6 + \square < 15$, □里最大能填多少?

7 □

8 □

9 □

4. 小方有13颗糖,第一天吃了4颗,第二天吃了3颗。小方一共吃掉了几颗糖?

6颗 □

7颗 □


8颗 □



5. 小方读一本书。第一天读了7页,第二天读了9页,第三天从第几页开始读起?

第2页 第16页 第17页

6. 小明有两盒蜡笔,一共12支。猜一猜,下面哪两盒是他的?

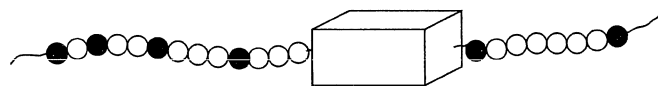


7. 小红今年8岁了,哥哥比她大4岁。当小红长到哥哥这么大时,哥哥几岁了?

12岁 16岁 20岁


三、 操作题 (每题6分,共18分)

1. 按规律把盒子里的珠子画出来。



盒子里一共有()颗黑珠,()颗白珠;从左起,第10颗珠子是()色。

2. 如右图,交换气球()和气球(),可以使两边气球上的数的和相等。



$$\square + \square = \square + \square$$

3. 盒子里有三张数字卡片,上面写着1、3、8。

(1) 从中任摸两张,可能是1和3,也可能是()和(),还可能是()和()。

(2) 把摸出的两张卡片上的数相加,得数最大可能是(),最小可能是()。

四、 解决问题 (每题7分,共28分)

1. 两种果树一共有多少棵?

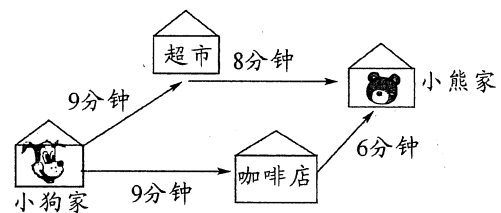
$$\square \bigcirc \square = \square \text{ (棵)}$$

2. 停车场原来有()辆车,又开来了()辆车,现在

有()辆车。

$$\square \bigcirc \square = \square \text{ (辆)}$$

3. 小狗去小熊家玩,走哪条路可以快一点呢?请在合适路线后面的□里画“√”,再算一算,到达小熊家最少要多少分钟。



小狗家→超市→小熊家

小狗家→咖啡店→小熊家

$$\square \bigcirc \square = \square \text{ (分)}$$

4.

$\square \bigcirc \square \bigcirc \square = \square \text{ (人)}$

一共有多少人?

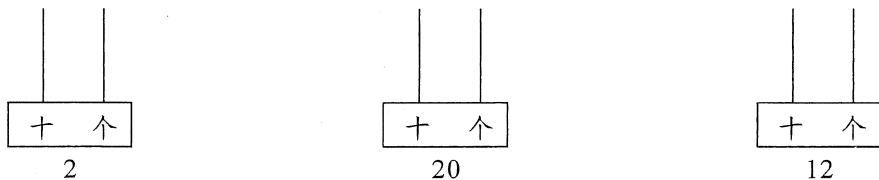


6. 红红、明明、方方三人比高矮。红红比明明高,明明比方方高。谁最高?


红红□ 明明□ 方方□

三、 操作题 (共 15 分)

1. 画算珠表示下面的数。(6分)




2. 先接着涂一涂,再填一填。(9分)



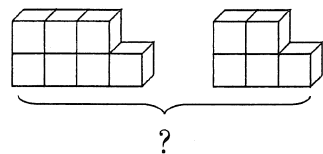
▲比▽多()个,

▽比▲少()个。

四、 解决问题 (每题 6 分,共 36 分)


1. 看图写算式。

(1)







$$\square \bigcirc \square = \square (\text{个})$$

(2)



$$\square \bigcirc \square = \square (\text{只})$$

2. 填表。

				
原来	4个	8根	10个	10个
又买来	10个	6根	3个	2个
一共	14个	()根	()个	()个

3. 水果店有 18 箱苹果,上午卖出 8 箱,下午卖出 2 箱,水果店现在有多少箱苹果?

$$\square \bigcirc \square \bigcirc \square = \square (\text{箱})$$

4. 停车场停了 16 辆客车。第一天开走了 6 辆,第二天开走了 4 辆。

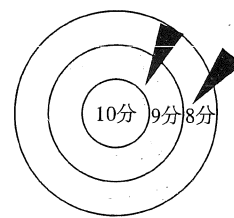
(1) 两天一共开走了多少辆客车?

$$\square \bigcirc \square = \square (\text{辆})$$

(2) 停车场还剩下多少辆客车?

$$\square \bigcirc \square = \square (\text{辆})$$

5. 飞镖游戏规定:投中里圈得 10 分,投中中圈得 9 分,外圈得 8 分。



(1) 上面是小刚投中两次的成绩,他一共得了多少分?

$$\square \bigcirc \square = \square (\text{分})$$

(2) 小明也投中了两次,想一想,他最多可以得多少分?

$$\square \bigcirc \square = \square (\text{分})$$

6. 16 个小朋友玩老鹰捉小鸡的游戏,已经捉住了 8 只“小鸡”,还剩下几只“小鸡”?



《小学生数学报》数学学习能力调研卷

落实“双减” 提质增效 (最新修订版)




2023年秋学期苏教版一年级(上)期末使用

(本卷总分100分,共4页,建议完成时间90分钟)


班级_____姓名_____等第_____

一、填空题(每空1分,共31分)

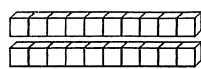
1. 看图写数。



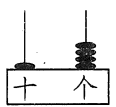
()



()



()



()

2. 如右图,按键“5”下面的数是();“8”在“7”的()面,在“0”的()面。



3. (1) 两个两个地数,12前面一个数是(),后面一个数是()。

(2) 16里面有()个一和()个十。

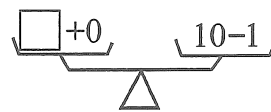
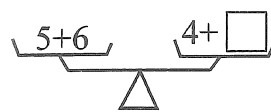
(3) 18比()多2,比()少2。

4. 在括号里填上合适的数。

()-4=6 ()+3=10 9-()=2+()

()-5=10 17-()=10 3-()+5=8

5. 在□里填合适的数,使天平保持平衡。



6. 找规律,接着画一画、填一填。


(1) ★□★□★□★□()()()()

(2) 1、3、5、()、()、11、()

(3) 20、19、17、16、14、13、11、()、()

二、选择题(在正确答案后面的□里画“√”)(每题3分,共18分)

1. 哪个杯子里的水最多? 2. 括号里填怎样的数?




6+() < 14

8□ 大于 8□ 小于 8□

3. 小虎、小青和小文这个月都新买了14本课外书。小虎已经看完了7本,小青已经看完了8本,小文还有9本没看完。谁剩下没看完的课外书最少?

小虎□ 小青□ 小文□

4. 大象每次可以运3根木材,剩下的木材还需要运多少次?



2次□ 3次□ 9次□

5. 王老师带10个男生和8个女生去公园玩,坐哪辆车比较合适?

20座□ 15座□ 10座□

查答案填问卷请扫描



「版权所有,翻印必究」

