

苏教版小学数学一年级上册期末试卷 B

试卷总分值：100 分 考试时间：60 分钟

一、直接写出得数（每题 1 分，共 25 分）

1、 $4+1=5$

2、 $2+8=10$

3、 $6+6=12$

4、 $8-4=4$

5、 $10-3=7$

6、 $5+2=7$

7、 $7-5=2$

8、 $9-6=3$

9、 $5+8=13$

10、 $3+9=12$

11、 $7+4=11$

12、 $9+9=18$

13、 $13-3=10$

14、 $10+6=16$

15、 $8-8=0$

16、 $7+8=15$

17、 $4+4+2=10$

18、 $12-2-5=5$

19、 $8-7+9=10$

20、 $6+9-5=10$

21、 $3+4+7=14$

22、 $14-10+9=13$

23、 $6-1+7=12$

24、 $16-6-8=2$

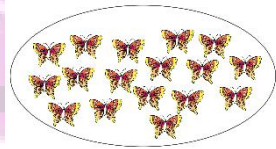
25、 $14-4-0=10$

二、填空。(每空 1 分，共 30 分)

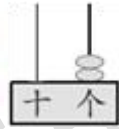
1、看图写数。



()



()



()

答案：6，17，2


2、填一填。

(1)11 里面有 () 个十和 () 个一。

(2)5 个一和 1 个十合起来是 ()。


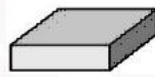

(3)2 个十是 ()。

(4)下面几个数中，最接近 10 的是 ()，最接近 20 的是 ()，大于 14 又小于 16 的数是 ()。



答案：①1，1；②15；③20；④11，19，15

3、



(1)上面一共有()个物体,第1个是长方体,第()个是球。

(2)上面的图形中,圆柱有()个,正方体有()个。

答案: ①7, 4; ②2, 2

4、按规律填数。

12		16		20
----	--	----	--	----

20		10	5	
----	--	----	---	--




答案: 14, 18, 15, 0

5、在()里填上合适的数。

$$8 + () = 14 \quad 17 - () = 10 \quad 10 - 2 = () + 4$$

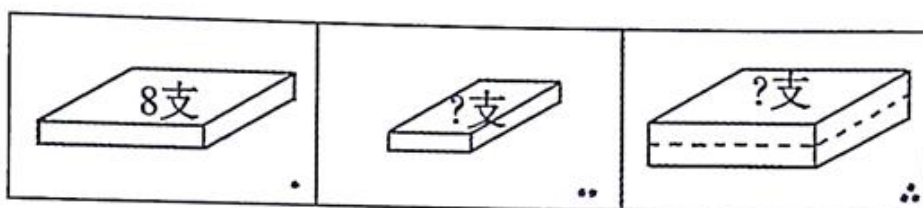
答案: 6, 7, 4

6、

			
原有	19个	18个	()根
拿走	9个	()个	9根
还剩	()个	10个	5根

答案: 10, 8, 14


7、估一估。



如图,图1的盒子里能放8支铅笔,请你估计图2的盒子里大约能放()支铅笔;图3的盒子里大约能放()支铅笔。

答案: 4, 16


8、




端走其中的 2 盘，最多能端走（ ）个梨，最少端走（ ）个梨。

答案：12，8

9、



一只小狗只啃一根骨头，还多（ ）根骨头；



一只小狗只啃一根骨头，还少（ ）根骨头；

答案：2，1

三、选一选，把正确答案的序号写在（ ）里。（每题 2 分，共 12 分。）

1、哪一个最重？（ ）



A. 

B. 

C. 

答案：A

2、与 16 相邻的两个数分别是（ ）。

A. 17 和 18

B. 14 和 15

C. 15 和 17

答案：C

3、红红家的门牌号是一个两位数，这个两位数的十位上的数字是1，个位上的数字比十位上的数字多4，红红家的门牌号是（ ）。

- A. 14 B. 15 C. 16

答案：B

4、美术组女生有8人，男生有7人，每人发一本绘画本，14本够不够？（ ）

- A. 够 B. 不够 C. 正好

答案：B

5、王医生从1号病人看起，现在要看第15号病人，已经看了多少个病人？（ ）

- A. 13 B. 15 C. 14

答案：C

6、小朋友拍皮球，乐乐拍了16下，丽丽拍了19下，明明拍的下数比乐乐多，比丽丽少。丽丽可能拍了多少下？（ ）

- A. 16 B. 17 C. 20

答案：B

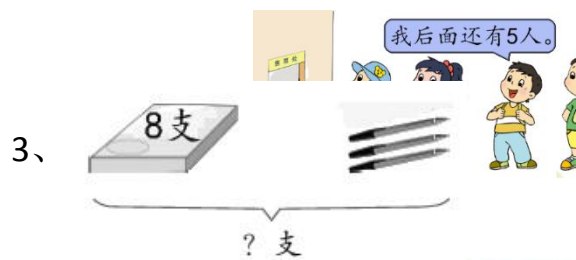
四、看图写算式。（每题3分，共12分）

1、  $0 + \square = \square$

答案： $0 + 4 = 4$

2、  $7 - \square + \square = \square$

答案： $7 - 3 + 7 = 11$



$$\square \bigcirc \square = \square \text{ (支)}$$

答案: $8+3=11$ (支)



$$\square \bigcirc \square = \square \text{ (个)}$$

答案: $10-2=8$ (个)

五、解决实际问题。(每小题3分,共21分。)



一共采了多少个 ?

$$\square \bigcirc \square = \square \text{ (个)}$$

答案: $7+7=14$ (个)

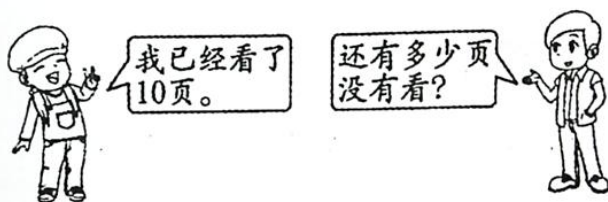
2、

一共有多少人？

$$\square \bigcirc \square = \square \text{ (人)}$$

答案：3+5=8（人）

3、一本连环画有 16 页。



$$\square \bigcirc \square = \square \text{ (页)}$$

答案：16-10=6（页）

4、树上原来有 20 个桃，第一次摘下 8 个，第二次摘下 6 个。两次一共摘下多少个？

$$\square \bigcirc \square = \square \text{ (个)}$$

答案：8+6=14（个）或 6+8=14（个）

5、三个好朋友一起玩打靶游戏。

靶图：上面由内到外分别标注 10、9、8、7、6。

(1)小奇第一次打中 10 环，第二次打中 6 环，他两次一共打中多少环？

$$\square \bigcirc \square = \square \text{ (环)}$$

答案：10+6=16（环）或6+10=16（环）

(2)小乐打中两次，两次的得分不同，他最多打中多少环？

$$\square \bigcirc \square = \square \text{ (环)}$$

答案：10+9=19（环）或9+10=19（环）

(3)小强打中两次，他最少打了多少环？

$$\square \bigcirc \square = \square \text{ (环)}$$

答案：6+7=13（环）或7+6=13（环）

小函数数学